

## NESNE GRAFİĞİ ÇALIŞMAMIZ

Bir sınıftaki öğrencilerin 7 tanesi İngilizce kursuna, 6 tanesi resim kursuna, 7 tanesi basketbol kursuna, 5 tanesi gitar kursuna, 9 tanesi matematik kursuna gitmektedir.

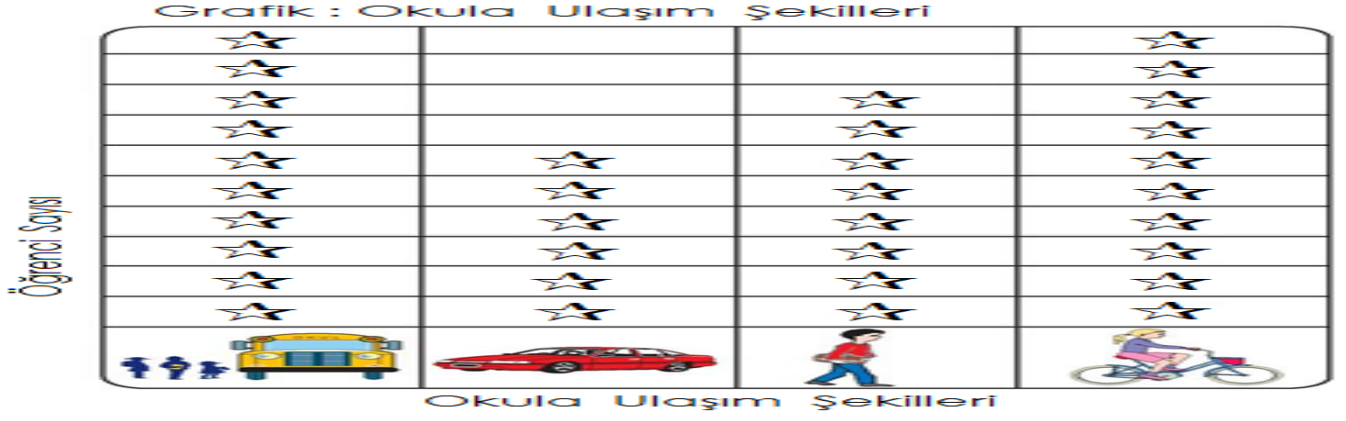
Yukarıdaki verilere uygun olarak nesne grafiğini oluşturunuz. Nesne grafiği oluştururken her öğrenci için 😊 şeklini yerleştiriniz.

Grafik: .....


Aşağıdaki soruları oluşturduğunuz grafiğe göre cevaplayınız.

- 1- Öğrenciler en çok hangi kursa gitmişlerdir? .....
- 2- Öğrenciler en az hangi kursa gitmişlerdir? .....
- 3- Öğrenciler hangi iki kursa eşit olarak gitmişlerdir? .....
- 4- Matematik kursuna giden öğrenci sayısı, gitar kursuna giden öğrenci sayısından kaç fazladır? .....
- 5- Kaç tane öğrenci kursa gitmektedir? .....
- 6- En fazla gidilen kurs ile en az gidilen kurstaki öğrenci sayısı toplam kaçtır? .....
- 7- İngilizce kursuna giden öğrenci sayısı, resim kursuna giden öğrenci sayısından kaç fazladır? .....
- 8- Basketbol kursuna giden öğrenci sayısı, gitar kursuna giden öğrenci sayısından kaç fazladır? .....

Aşağıdaki grafiği inceleyiniz. Grafik ile ilgili soruları cevaplayınız.



1- Okula bisikletle giden kaç kişi vardır? .....

2- Okula en az hangi araçla gidilmektedir? .....




























3- Okula hangi taşıtla giden öğrenci sayıları eşittir? .....

4- Okula; bisiklet ile giden öğrenci sayısı, araba ile giden öğrenci sayısından kaç fazladır?

.....

Aşağıdaki grafiği inceleyiniz. Grafik ile ilgili soruları cevaplayınız.

Grafik: Bahçedeki Ağaç Türleri

Muz		  
Elma		     
Ceviz		   
Kayısı	 	   
Portakal		   

1- Bahçede en çok ne ağacı

vardır?.....

2- Bahçede en az ne ağacı vardır?

.....

3- Bahçede toplam kaç ağaç vardır?

.....

4- Bahçedeki portakal ağacı sayısı, kayısı ağacı sayısından kaç fazladır?

.....